

KLASA II

Zastosuj łączność i przemienność dodawania:

$$9 + 8 + 11 + 12 =$$

$$15 + 18 + 5 + 2 =$$

$$7 + 6 + 3 + 4 =$$

Oblicz sumę i różnicę liczb:

a) 13 i 6

b) 24 i 6

c) 20 i 0

d) 14 i 4

e) 15 i 15

f) 9 i 6

Oblicz, pamiętając o kolejności działań:

$$(20 - 5) + 2 =$$

$$13 + (3 - 2) =$$

$$52 + (16 - 8) =$$

$$88 - 8 - 50 + 5 =$$

Oblicz:

$$30 : 5 =$$

$$6 \cdot 5 =$$

$$28 : 4 =$$

$$4 \cdot 6 =$$

$$27 : 3 =$$

$$5 \cdot 5 =$$

$$18 : 3 =$$

$$7 \cdot 3 =$$

Rozwiąż zadanie:

W sklepie było 100 kubków. Sprzedano 28 kubków z kwiatkami i 11 kubków białych.

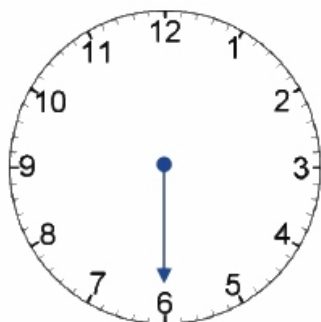
Oblicz, ile kubków sprzedano? Oblicz, ile kubków zostało w sklepie?

Uzupełnij stronę z zegarami.

Narysuj na zegarach odpowiednio ustawione wskazówki.



wpół
do jedenastej



wpół
do szóstej



wpół
do piątej



wpół
do dziewiątej

Odczytaj i zapisz wskazania zegarów.



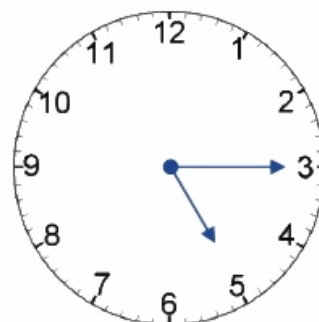
..... minut
po dziesiątej



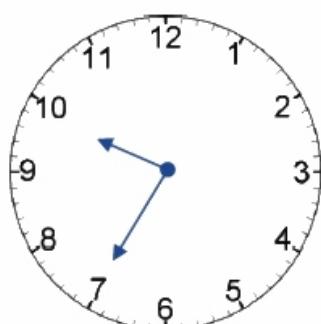
..... minut
po drugiej



..... minut
po trzeciej



..... minut
po piątej



za
dziesiąta



za
czwarta



za
szósta



za
druga